

Демонстрация по востоковедению 11 класс

1. Задача 1

В тексте так называемой «Конституции семнадцати статей» принца Сётоку зафиксированы:

1	<input type="radio"/>	структура государственного аппарата государства Ямато
2	<input type="radio"/>	экономический порядок государства Ямато
3	<input type="radio"/>	нормы уголовного права государства Ямато

2. Задача 2

Какие три государства существовали на Корейском полуострове в IV-VII вв.:

1	<input type="radio"/>	Корё, Чосон, Когуре
2	<input type="radio"/>	Чосон, Когуре, Пэкче
3	<input type="radio"/>	Когуре, Бохай, Силла

3. Задача 3

Назовите даты существования халифата Омейядов:

1	<input type="radio"/>	620-632
2	<input type="radio"/>	632-661
3	<input type="radio"/>	750-1258

4. Задача 4

Назовите даты существования династии Юань:

1	<input type="radio"/>	221-206
2	<input type="radio"/>	1368-1644
3	<input type="radio"/>	618-907

5. Задача 5

Основателем новой династии Чосон, пришедшим к власти путём военного переворота, и сторонником развития отношений Кореи с династией Мин являлся:

1	<input type="radio"/>	Тангун
2	<input type="radio"/>	Пак Хёккосе
3	<input type="radio"/>	Ван Гон

6. Задача 6

Средством борьбы императорского рода с контролем регентов и канцлеров из клана Фудзивара в XI-XII вв. являлась:

1	<input checked="" type="radio"/>	установление системы правления монашествующих экс-императоров
2	<input type="radio"/>	установление системы военной диктатуры самурайских родов Канто
3	<input type="radio"/>	возобновление отправки посольств в Китай для получения инвеституры
4	<input type="radio"/>	принятие буддизма, для ослабления политического значения родовых связей

7. Задача 7

Согласно мусульманской традиции, составление ныне общепринятого текста Корана относится к правлению халифа

1	<input type="radio"/>	Абу Бакра
---	-----------------------	-----------

2	<input type="radio"/>	Умара
3	<input checked="" type="radio"/>	Усмана
4	<input type="radio"/>	Али

8. Задача 8

Назовите имя советника Цинь Шихуанди, который выступал за легистский стиль управления империей и, согласно источникам, был архитектором репрессий против конфуцианцев

1	<input type="radio"/>	Сян Юй
2	<input type="radio"/>	Ху Хай
3	<input type="radio"/>	Хань Фэй

9. Задача 9

Икона изображает местночтимых святых Китайской епархии русской православной церкви. В их число входят принявшие мученическую смерть во время:



1	<input checked="" type="radio"/>	Восстания ихэтуаней
2	<input type="radio"/>	Восстания Цзиньдандао
3	<input type="radio"/>	Дунганского восстания
4	<input type="radio"/>	Восстания тайпинов

10. Задача 10

Аннексия Кореи Японской империей в 1910 г. стала возможна в результате:

1	<input type="radio"/>	вторжения 800 кораблей флота Японии в Корею и объявлении ультиматума, при поддержке США, Франции и Великобритании
2	<input checked="" type="radio"/>	заключения неравноправного договора о присоединении в результате вмешательства Японии во внутреннюю политику Кореи
3	<input type="radio"/>	обращения императора Кочжона к правительству Японии для военной помощи в подавлении крестьянского восстания 1894 г.
4	<input type="radio"/>	заключения ряда соглашений Японии и Западных держав о разделе сфер влияния в Азии после завершения русско-японской войны

11. Задача 11

Можно ли считать верным утверждение, что в результате преобразований Реставрации Мэйдзи (1868-188# правительство Японии:

1	<input type="radio"/>	смогло в короткие сроки переориентировать промышленный комплекс страны с энергоёмких производств и тяжелой металлургии на наукоёмкие производства, ориентированные на внешний рынок
2	<input type="radio"/>	взяло курс на самоизоляцию страны, чтобы избежать опасности попасть в политическую и экономическую зависимость от держав Запада и сохранить традиционный хозяйственный уклад, на который опиралась власть элиты самураев
3	<input checked="" type="radio"/>	нашло путь синтеза ценностей традиционной культуры и передовых достижений Запада, что позволило ей из аграрной страны превратиться в конкурентоспособную в военном и экономическом плане державу
4	<input type="radio"/>	провело ряд преобразований в политической, социальной и производственно-финансовой сферах, что способствовало дальнейшей демилитаризации экономики, либерализации политического режима и законодательства

12. Задача 12

Причиной начала Гражданской войны в Ливане 1975-1990 гг. принято считать:

1	<input checked="" type="radio"/>	столкновения между боевиками «Партии фалангистов» и палестинскими боевиками
2	<input type="radio"/>	антиправительственные выступления «Хезболла» поддержанные ливанской армией
3	<input type="radio"/>	ввод военного контингента США в Бейрут для подавления мусульманского восстания
4	<input type="radio"/>	боевые столкновения Израиля и боевиков «Хезболла» на территории южного Ливана

13. Задача 13

Результатом битвы за Гуадалканал 7 августа 1942 – 9 февраля 1943 г. является:

1	<input type="radio"/>	захват Японией плацдарма и ресурсной базы для продолжения наступательных операций в Азии и дальнейшее оттеснение союзников на юг Тихого океана
2	<input type="radio"/>	создание ВМС США на атолле военно-воздушной базы для периодической бомбардировки стратегических целей на территории Японии
3	<input type="radio"/>	снижение потенциала вооруженных сил Японии для проведения крупных военных операций и сохранение паритета США и Японии в войне
4	<input checked="" type="radio"/>	полная потеря Японией стратегической инициативы и переход сил США в контрнаступление на Тихоокеанском театре военных действий

14. Задача 14

О каком арабском правителе Испании говорится в стихотворении Генриха Гейне (1797-1856)?

От испанцев в Альпухарру

Мавританский царь уходит.

Юный вождь, он, грустный, бледный,

Возглавляет отступленье.

<...>

Ни цимбал, ни барабанов,
Ни хвалебных песнопений,
Лишь бубенчики на мулах
В тишине надрывно плачут.
С вышины, откуда видно
Всю равнину вокруг. Дуэро,
Где в последний раз мелькают
За горой зубцы Гранады,
Там, о коня на землю прыгнув,
Царь глядит на дальний город,
Что в лучах зари вечерней
Блещет, золотом, багряным.
Но, Аллах, - о стыд великий! -
Где священный полумесяц?
Над Альгамброй оскверненной
Реют крест и флаг испанский.
Видит царь позор ислама
И вздыхает сокрушенно
И потоком бурным слезы
<...>.

По его щекам струятся.

<...>

И "Последним вздохом мавра"

Называется доньне

Та гора, с которой видел

Он в последний раз Гранаду.

1	<input checked="" type="radio"/>	Боабдиль
2	<input type="radio"/>	Аль-Мансур
3	<input type="radio"/>	ал-Мутамид
4	<input type="radio"/>	Абд ар-Рахман III

15. Задача 15

Частью какого храмового комплекса времени Объединённого Силла является грот, представленный на изображении:



1	<input type="radio"/>	Хэинса
2	<input checked="" type="radio"/>	Пульгукса

3	<input type="radio"/>	Пунхванса
4	<input type="radio"/>	Хванёнса

16. Задача 16

Какой персонаж пантеона японского буддизма, почитаемый во всей Восточной Азии, представлен на изображении?



1	<input type="radio"/>	будда Дайнити Нёрай
2	<input type="radio"/>	патриарх Бодхидхарма
3	<input type="radio"/>	бодхисатва Хатиман

17. Задача 17

В каких мусульманских странах, несмотря на религиозные запреты, в Средневековье и Новое время получило развитие искусство книжной миниатюры?

1	<input type="checkbox"/>	Сирия
2	<input checked="" type="checkbox"/>	Турция
3	<input checked="" type="checkbox"/>	Иран
4	<input type="checkbox"/>	Египет
5	<input type="checkbox"/>	Иордания

18. Задача 18

Назовите имена мыслителей, который относится к даосизму:

1	<input type="checkbox"/>	Гунсунь Ян
2	<input checked="" type="checkbox"/>	Чжан Даолин
3	<input type="checkbox"/>	Чэн Хао
4	<input type="checkbox"/>	Мэн Кэ
5	<input checked="" type="checkbox"/>	Гэ Хун

19. Задача 19

К достижениям внешней политики президента Южной Кореи Ро Дэу (1988-199# относятся:

1	<input checked="" type="checkbox"/>	установление дипломатических отношений Республики Корея и КНР
2	<input type="checkbox"/>	организация первой встречи родственников разделённых семей
3	<input type="checkbox"/>	создание совместно с КНДР промышленного парка Кэсон
4	<input type="checkbox"/>	создание Российско-Корейского комитета по экономическому и научно-техническому сотрудничеству

20. Задача 20

Назовите имена людей, входивших в Чжилийскую группировку милитаристов:

1	<input type="checkbox"/>	Сюй Шучжэн
2	<input checked="" type="checkbox"/>	Фэн Гочжан
3	<input type="checkbox"/>	Чэнь Цзюньмин
4	<input type="checkbox"/>	Дуань Цижуй
5	<input checked="" type="checkbox"/>	У Пэйфу

21. Задача 21

Главы или представители каких партий Японии НЕ ЗАНИМАЛИ пост премьер-министра после введения Конституции 1947 г.?

1	<input checked="" type="checkbox"/>	Партия возрождения Японии
2	<input type="checkbox"/>	Демократическая партия Японии
3	<input type="checkbox"/>	Социалистическая партия Японии
4	<input type="checkbox"/>	Прогрессивная партия Японии
5	<input checked="" type="checkbox"/>	Коммунистическая партия Японии

22. Задача 22

Какие из нижеперечисленных царств не существовали в период Чуньцю?

1	<input checked="" type="checkbox"/>	Ся
2	<input type="checkbox"/>	Хань
3	<input checked="" type="checkbox"/>	Шу
4	<input type="checkbox"/>	Ци

5	<input type="checkbox"/>	Чжао
---	--------------------------	------

23. Задача 23

Результатами заключения Пекинского договора 1925 г. между Японской империей и СССР являлись:

1	<input type="checkbox"/>	передача Японии аренды Порт-Артура и связанных с ней концессий
2	<input type="checkbox"/>	передача СССР 18-ти Курильских островов под суверенитет Японской империи
3	<input type="checkbox"/>	признание суверенитета Японии над о-в Сахалин в обмен на передачу СССР всех Курильских островов
4	<input checked="" type="checkbox"/>	вывод войск Японии и передача СССР суверенитета над Северным Сахалином
5	<input checked="" type="checkbox"/>	установление дипломатических отношений между СССР и Японской империей

24. Задача 24

Какие из перечисленных государств НЕ ЯВЛЯЛИСЬ участниками Войны в Персидском заливе 1990-1991 гг.?

1	<input type="checkbox"/>	Ирак
2	<input checked="" type="checkbox"/>	Йемен
3	<input type="checkbox"/>	Саудовская Аравия
4	<input checked="" type="checkbox"/>	Иран
5	<input type="checkbox"/>	Катар

25. Задача 25

Установите правильную последовательность периодов японской истории, к которым относятся культурные артефакты, изображенные на иллюстрациях. При установлении последовательности цифре 1 должен соответствовать хронологически самый ранний вариант ответа, а цифре 4 – самый поздний.





Возможные ответы

1	1
2	2
3	3
4	4
5	1
6	2
7	3
8	4

Система оценивания

Ответ	Балл

26. Задача 26

Установите правильную хронологическую последовательность возникновения международных объединений на Востоке. При установлении последовательности цифре 1 должен соответствовать хронологически самый ранний вариант ответа, а цифре 4 – самый поздний.

Организация стран экспортеров нефти (ОПЕК)	<input type="text"/>
Совет сотрудничества арабских государств Персидского залива (ССАГПЗ)	<input type="text"/>
Лига арабских государств (ЛАГ)	<input type="text"/>
Ассоциация государств Юго-Восточной Азии (АСЕАН)	<input type="text"/>

Возможные ответы

1	1
2	2
3	3

4	4
---	---

Система оценивания


Ответ	Балл


27. Задача 27

Расположите в хронологическом порядке портреты философов и религиозных деятелей стран Востока, основываясь на известных фактах их исторических и легендарных биографий. При установлении последовательности цифре 1 должен соответствовать хронологически самый ранний вариант ответа, а цифре 4 – самый поздний.









Возможные ответы

1	1
2	2
3	3

4	4
---	---

28. Задача 28

Соотнесите династии Китая и названия их столиц.

1	<input type="text"/>	Лоян
2	<input type="text"/>	Чанань
3	<input type="text"/>	Нанкин
4	<input type="text"/>	Ханчжоу

Возможные ответы

1	Тан
2	Западная Цзинь
3	Южная Сун
4	Мин

29. Задача 29

Соотнесите изображения и термины, описывающие культовые предметы и архитектуру синтоизма.


1




2



3





Возможные ответы

1	ТОРИИ
2	МИКОСИ
3	ОНУСА
4	СИМЭНАВА

30. Задача 30

Соотнесите термины арабской литературы и значения.

1	▼	стихотворение преимущественно панегирического содержания. Отличается значительным объемом и трехчастной композицией
2	▼	Рифмованное двустишие, выражающее законченную мысль, может быть самостоятельным произведением или частью



		произведений других форм
3	<input type="text"/>	поэтический жанр воспевающий употребление вина и застольного гедонизма, часто иносказательно
4	<input type="text"/>	небольшие стихотворения тематика которых разочарование, суетность жизни, восхваление аскетизма, призыв к духовному самоусовершенствованию

Возможные ответы

1	ЗУХДИЙЯТ
2	БЕЙТ
3	ХАМРИЙЯТ
4	ГАЗЕЛЬ

31. Задача 31

Соотнесите названия и изображения традиционных танцев Кореи.

1	<input type="text"/>	
2	<input type="text"/>	

<p>3 <input type="text"/></p>	
<p>4 <input type="text"/></p>	

Возможные ответы

1	ПУЧЕЧУМ
2	ТАЛЬЧУМ
3	ЧАНГУЧУМ
4	ПАРАЧУМ

32. Задача 32

Назовите имена изображенных ниже персонажей китайской мифологии:



Ответ: Фу Си и Нюй Ва

33. Задача 33

Какой персонаж легендарной истории Японии изображен на гравюре?



Ответ: Дзимму тэнно

34. Задача 34

Лидером какой страны являлся автор идеологического манифеста, изложенного в нижеследующем тексте:

«Линия и стратегия предыдущего поколения имела также серьезный недостаток — они не опирались прочно на живую действительность Кореи.

Я пришел к выводу, что для разработки правильной руководящей теории, отвечающей живой действительности <...>, следует все проблемы продумывать самостоятельно, в соответствии с реальными условиями своей страны и решать

их оригинальным методом, не абсолютизируя классику или опыт другой страны. Нельзя было целиком перенять, например, опыт Октябрьской революции при создании руководящей теории или сидеть сложа руки в надежде, что Коминтерн даст какую-либо панацею от всех болезней.

«Нам не на что опираться, кроме как на силу народных масс. Развернем кровавую битву с японскими империалистами, веря в силу двадцати миллионов <...> соотечественников и сплотив воедино их силу», — часто звучал в моей душе такой крик. <...> Однако я не думал систематизировать эти идеи и обобщить их в одной книге. Остался доволен лишь тем, что наш народ воспринял эти идеи как правильные и осуществляет их в своей революционной практике»

Ответ: Коре́йская Народно-демократи́ческая Респу́блика

35. Задача 35

События из жизнеописания какой исторической фигуры Ближнего Востока изображено на миниатюре?



Ответ: Пророк Мухаммед

36. Задача 36

Для какого ритуализированного действия в культуре Кореи используются предметы, представленные на изображении?



Ответ: Таризэ

37. Задача 37

В рамках какого религиозно-политического учения Востока сформировалось представление об идеальном правителе, признаки появления которого описывает текст:

«<...> обратился к монахам-ученикам со следующими словами: "Ты и другие вот что должны знать. Если правитель <...> проходит обряд посвящения на царство, <...>, то для того чтобы люди поняли, что преисполненный величия и добродетелей действительно появился в мир, вместе с этим царём появляются семь сокровищ. семью сокровищами <...> считаются: сокровище-чакра, сокровище-слон, сокровище-конь, сокровище-министр, ведающий казною, сокровище-министр, ведающий войсками, сокровище-драгоценность, сокровище-жена. Это и есть семь сокровищ, которые появляются вслед за появлением в мир царя <...>"

Вот что именуется семью сокровищами, которые появляются в мир совместно с появлением царя <...>. Это – стадия пробуждения понимания, стадия пробуждения выбора, стадия пробуждения к стремлению в совершенствовании в Учении, стадия пробуждения для состояния счастья, стадия пробуждения для

относительного покоя, стадия пробуждения, ведущая к полному успокоению, и стадия пробуждения для окончательного отказа. Так Приходящий и Откликающийся поведал вам о законе семи стадий пробуждения для того, чтобы дать образец для подражания всем живым существам, дабы каждый из них, следуя этому образцу, обрёл высшие покой и блаженство. Поэтому ты и другие должны ревностно вникать в мною сказанное»

Ответ: буддизм

38. Задача 38

Каким термином принято называть жителей Аравии, описание которых дано в приведенном фрагменте трактата XII в. «О земле Иерусалимской и ее обитателях»:

А еще есть <...>, дикие люди, которых в народе называют лесными турками, они постоянно живут в шатрах и не имеют ни родины, ни жилищ. У них множество скота и всякой живности, которую они пасут, получив разрешение, то на землях сарацинов, то на землях христиан. Их множество, они разделяются по провинциям турмами, питаются мясом и молоком, одеваются в овечьи и козьи шкуры, постоянно, если только не разразится сильный дождь, спят под открытым небом. Шатры делают из шкур животных. Они — приятели фортуны: присоединяются к тому, кто берет верх над людьми. Они отпетые предатели, редкостные разбойники. Носят красные войлочные шапки и плащи, вокруг шапок обвязанные. Когда мы одерживаем верх над сарацинами, тогда они наши друзья и братья. Если же сарацины одерживают верх над христианами — переходят к ним. Гневя христиан, они восхваляют сарацин, и точно так же перед сарацинами — христиан. У них нет никакой другой веры, кроме той, которая идет от страха. Говорят, Магомет был из них. Письмена у них сарацинские, но весьма искаженные.

Ответ: Бедуин

39. Задача 39

На основании приведенного текста ответьте: какому году в европейском календаре соответствовал год Усью?

Моя тетя была во всех отношениях интереснее свекрови (правда, до сих пор я не могу забыть ее курительной трубки, особенно когда в ней оставался перегоревший табак с листочками орхидеи). Начиная с ее внешности, я бы сказал весьма благообразной, хотя бы уже потому, что ее щеки не висели, будто мешочки с отравляющим газом. У нее были черные глаза, необыкновенно выразительные, когда пожилая женщина находилась в состоянии спокойствия. Но увы, по причине нам неизвестной порой налетал ураган и в глазах ее появлялся леденящий душу демонический блеск. Впрочем, к чему все это вспоминать? Тетка очень любила азартные игры, и, когда ей удавалось выиграть

два-три чоха монет, она вдруг низким голосом затягивала несколько куплетов на мотив эрхуан. Как видно, неспроста: поговаривали, что ее муж, мой родной дядя, был актером. В ту эпоху реформ... Ах да! Я совсем забыл рассказать об этом важном событии! Заболтавшись о своем рождении, я упустил из виду, что речь идет о знаменательном времени, когда в стране произошли реформы, о годе Усью...

После восстания тайпинов, военных кампаний англичан и французов и морской войны свою заносчивость и презрение к маньчжурам, даже к особе императора, теперь демонстрировали не только длинноносые иностранцы. Все большую непочтительность к знаменным стали проявлять даже обычные лавочники - все эти шаньдунские бакалейщики и шаньсийские менялы. Вытаращат глаза - каждое око по плоске - и ну честить знаменных людей, ну над ними издеваться! Поесть, мол, любите, а как возвращать долг, так шалишь! В долг больше не дадим! С этого самого дня извольте-ка платить наличными даже за кусочек холодного доуфу бобового сыра! Мать на себе чувствовала эти перемены жизни, хотя и не слишком хорошо разбиралась в делах Поднебесной. Иногда она советовалась с отцом - ведь он как-никак знаменный солдат и пост у него важный: охраняет императорский дворец.

Ответ: 1898